

< 範圍：L1~L2 >

【劃卡代號：32】

班級：

座號： 姓名：

※答案卡限用 2B 鉛筆劃記，答案請劃記明確；若有劃記錯誤，請擦拭乾淨。分數以電腦讀卡分數為準。

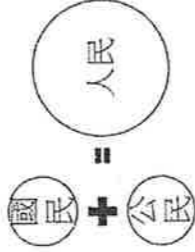
第一大題：(共20題，1~20題每題3分，共計60分)

1. () 人民是國家的組成分子，擁有該國國籍者即為該國國民。請問：下列哪一個圖示最適合用來表示「人民、國民與公民」三者之間的關係？

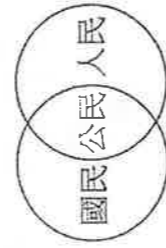
(A)



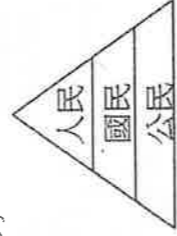
(B)



(C)



(D)



2. () 下列何者是依法而治的特色？

- (A) 司法機關能依法獨立裁決，不受外力影響
 (B) 以法律做為管制手段，並不用來限制政府權力
 (C) 人民權利受到政府侵害時，很難透過法律去討回公道
 (D) 法律只是政府的工具，依據執政者的想法來治理國家

3. () 請閱讀以下報導，並判斷台灣政府從事此類活動有於國家達成下列哪一種功能？

副總統出訪宏都拉斯 6 天返台

副總統擔任總統特使出訪宏都拉斯，他發文讚世界友人的眼中所看見、認識的台灣，其實是一體的台灣，無分藍綠，讓他感觸特別深刻。

總統表示副總統順利完成三個深化的任務，不僅達成台宏兩國深化邦誼、合作，也與許多理念相近國家的政要有所互動，深化國際參與，提升國際能見度。

- (A) 促進經濟
 (B) 保障安全
 (C) 伸張正義
 (D) 維護秩序

- ◎ 請閱讀下列文章後，回答以下2問題：

(甲) 機關在2021年做出釋字807號解釋：針對勞動基準法第49條第一項規定：「雇主不得使女工於午後10時至翌晨6時之時間內工作。但雇主經工會同意，如事業單位無工會者，經勞資會議同意後，且符合下列各款規定者，不在此限：一、提供必要之安全衛生設施。二、無大眾運輸工具可資運用時，提供交通工具或安排女工宿舍。」宣告違反中華民國憲法第7條保障性別平等意旨，並於解釋公布之日起立即失效。

針對 (甲) 機關做出的解釋，勞動部應受到該解釋的拘束，勞動部將檢視並提出後續修法規畫，對於保障懷孕、哺乳期間的婦女拒絕夜間工作的權利，勞動部也將提出保護措施。(參考資料：政寫自限制女性夜間工作違憲，勞動部3個月內提修法規畫，中時新聞網，2021/9/14。)

4. () 上文所指的 (甲) 機關應是哪個單位？

- (A) 立法院
 (B) 司法院
 (C) 法務部
 (D) 最高法院

5. () 根據上文所述內容，主要說明憲法的何項特性？

- (A) 最高性
 (B) 原則性
 (C) 固定性
 (D) 變動性

6. () 有關國家與政府的差異，下列敘述何者正確？

- (A) 政府是一個政治實體，具有穩定性與持續性
 (B) 政府具有主權，對外擁有獨立性
 (C) 國家功能有賴政府職權的運作
 (D) 國家是政府的組成要素之一

7. () 法律有廣義及狹義的意涵，不同位階的法律各有不同的定名，請判斷下列哪一選項的法令皆屬於同一位階？

- (A) 綱要、準則、通則
 (B) 條例、規則、細則
 (C) 細則、契約、辦法
 (D) 辦法、標準、規程

◎ 閱讀下列選文，回答下列2問題：

根據行政院人事行政總處的規定，颱風過境暴風停止辦公及上課標準為「未來四小時內暴風圈可能經過的地區，其平均風力達七級以上，或陣風超過十級以上。」若局部地區因受地形、雨量、交通等特殊影響，導致辦公或上課困難者，各縣市得依法逕行決定，並通報宣布停止上班或上課。

8. () 文中的「規定」，在法的層級中應屬何種位階？

- (A) 契約
- (B) 命令
- (C) 法律
- (D) 憲法

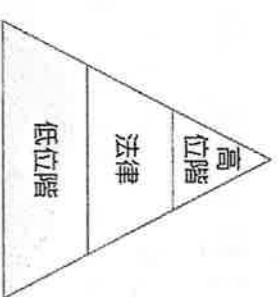
9. () 上述「因應各地情況差異，由各縣市政府自行做決定」的做法，可以表現出民主政治中的哪些內涵？

- (A) 民意政治、政黨政治
- (B) 責任政治、政黨政治
- (C) 法治政治、責任政治
- (D) 民意政治、法治政治

10. () 新生闖關活動時，公民站的主題是「國家組成要素」，關主明示其中一個要素是「主權」，各小隊要另外再想出其他三個國家組成要素的例子才可以過關。請問下列哪一小隊所舉出的例子可以關關成功？

(A) 青春小隊	(B) 可愛小隊
戰力強大的軍隊	萬里河山
易守難攻的城池	家庭十萬戶
忠誠度高的人民	國歌與國旗
活力小隊	健康小隊
寬廣肥沃的草原	物產豐富的島嶼
勤勞的百萬勞工	十萬住民
跨國企業	行政院與國會

11. () 附圖為我國廣義的法律位階示意圖，圖中灰色區塊所代表的法律類型，具有下列何項特色？



- (A) 內容多為原則性的規範
- (B) 修改必須經公民投票複決
- (C) 必須經總統公布施行
- (D) 可由行政機關訂定

12. () 民主國家的政府運作方式，所具備的特色有四項。下列場景中哪一個可用來說明政治責任的特色？

(A) 我們要讓政黨輪替！讓執政黨知道過去這四年我們很不滿意！


(B) 部長，這項政策已經對人民權益造成極大傷害。我將撤銷此項決議，並勇於承擔結果，絕對不會戀棧職位。

(C) 沒想到這位官員執行公務時，竟然收受賄款數千萬元。他應該為自己做的事負責，難怪被判刑12年。

(D) 局長，請政府提出正式的解決方案。公民不服從

好的，我們一定會謹慎處理。

13. () 附圖是我國總統直選後，各政黨的得票率，由此判斷，下列何項說明最為正確？



- (A) 政府的組成應取得多數選民的同意
- (B) 政黨是國家組成的關鍵要素
- (C) 政權的更換損害公權力的運作
- (D) 政黨輪替有利於主權的和平移轉

< 範圍：L1~L2 >

【劃卡代號：32】

班級：

座號：

姓名：

◎ 請閱讀下列文章後，回答以下2問題：

2021年海巡單位查獲100多隻走私貓，2天後全被安樂死，引發討論。事實上，(甲)海關緝私條例與(乙)動物傳染病防治條例等法規，均無動物必須立即被銷毀的規定。查獲走私動物一律撲殺的慣例，是依據行政院農業委員會為處理「走私農產品」而自行訂定的法規—(丙)走私沒人動物及其產品處理作業程序。立法院先前曾針對該法規可能有疑慮，希望相關單位針對有關銷毀走私動物的程序及方式再進行研議。

許多民眾不知道被走私的活體動物依慣例會被安樂死，也因為這個事件，正視走私沒人動物及其產品處理作業程序已不合時宜。但無論是過去曾被銷毀的兔子、寵物鼠或是爬蟲動物，都一樣是被賦予生存權利的生命，不是人類附屬的產品，不應該因過時、有待修正的法規而無辜喪命。

(資料來源：改寫自列讓154隻貓咪慘劇造成的對立，模糊我們捍衛動物權利的初衷，風傳媒，2021/8/31)

14. () 依據上文，立法院提出的疑慮，主要是從何種角度來探討走私動物遭到撲殺的爭議？

- (A) 基本權利
(B) 人性尊嚴
(C) 人治精神
(D) 法律位階

15. () 依據上文，(丙)的法律位階與下列何者相同？

- (A) 動物傳染病防治條例
(B) 動物保護法
(C) 寵物登記管理辦法
(D) 中華民國憲法增修條文

16. () 我國《憲法》第130條：「中華民國國民年滿20歲者，有依法選舉之權，除本憲法及法律別有規定者外，年滿23歲者，有依法被選舉之權。」關於選舉投票進一步的運作規範則由《公職人員選舉罷免法》定之。由此可見《憲法》具有何種特性？

- (A) 最高性
(B) 固定性
(C) 原則性
(D) 延伸性

17. () 法律有廣義及狹義的意涵，不同位階的法律各有不同的定名，下列哪些法令屬於狹義法律？

甲	交通部公路總局各區監理所組織通則
乙	交通事故處理辦法
丙	道路交通管理處罰條例
丁	市區道路及附屬工程設計標準
戊	中華民國憲法增修條文

- (A) 甲乙丙
(B) 甲丙戊
(C) 甲丙
(D) 乙丁戊

18. () 挪威曾於1972年和1994年兩次舉行加入歐洲聯盟的公民投票，但均未獲通過，因此挪威成為現今少數沒有加入歐盟的歐洲國家。請問上述情況可以表現出民主政治中的哪些內涵？

- (A) 民意政治、法治政治
(B) 法治政治、責任政治
(C) 民意政治、責任政治
(D) 法治政治、政黨政治

19. () 下表是四位同窗好友的相關資料。若僅根據表中內容判斷，何者最可能不曾具有我國國籍？

姓名	出生地	出生時父母的國籍	現況
趙正宗	洛杉磯	台灣	在日本留學
錢佳華	臺中	美國	擔任高雄市市議員
孫筱旻	東京	台灣	擔任立法委員
李定國	臺北	美國	在澳洲工作

- (A) 趙正宗
(B) 錢佳華
(C) 孫筱旻
(D) 李定國

20. () 現代民主國家除了保障人民的基本生存，還必須提供各種功能以維護人民福祉。下列何者是國家最主要的功能？

- (A) 促進產業發展、協助人民發展經濟
(B) 照顧人民的基本生活，重視社會福利措施
(C) 制定法律保障基本人權，維護社會秩序
(D) 維護生命財產，保衛國民不受外來侵略

第二大題：(共10題，21~30題每題4分，共40分)

21. () 下列有關命令的名稱，正確的項目為何？

甲	少年保護事件審理細則
乙	法務部矯正署少年觀護所組織準則
丙	少年及家事法院審理期限規則
丁	少年觀護所設置及實施通則

- (A) 甲乙
(B) 甲乙丙
(C) 甲丙丁
(D) 乙丙丁

22. () 請閱讀下列文章，「庫德斯坦國」欠缺哪些國家要素？

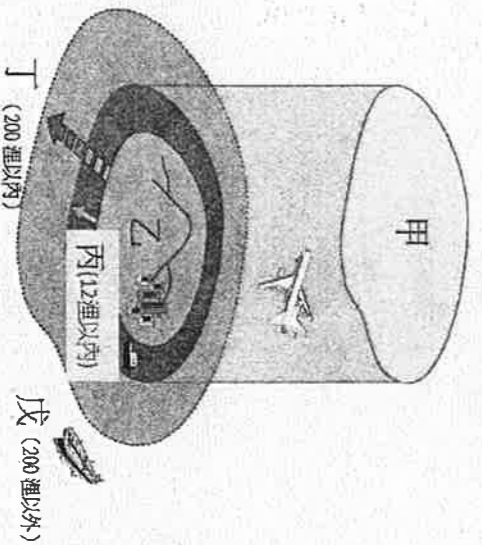
庫德族是沒有國家的民族，人口最多者，分布於土耳其、敘利亞、伊拉克以及伊朗等最具有地緣戰略的交會位置，周邊強國各有其戰略上的需要，誰都不願意放棄自家境內的庫德地區。即使庫德族無固定的疆界，沒有政治實體，但庫德族仍想建立一個「庫德斯坦國」(意指「庫德族人之地」)。

(資料來源：改寫自莊蕙嘉，國際小學堂／「無國之民」庫德族 另一個中東火藥庫，聯合報；2019/11/01)



- (A) 人民、領土、主權
(B) 人民、政府、主權
(C) 領土、政府、主權
(D) 人民、領土、政府

23. () 領土是指一個國家管轄權所能及的地理區域，為該國人民共同居住、生活的地方。請問：「領土」是指下圖中哪些區塊範圍？



- (A) 甲+乙+丙
(B) 乙+丙+丁
(C) 甲+乙+丙+丁
(D) 甲+乙+丙+丁+戊

24. () 主權是國家組成的關鍵要素，下列對於國家主權的說明何者正確？

- (A) 主權是國家統治權所能支配的地理區域
(B) 主權會因政府權力的轉移而產生變化
(C) 透過主權能與他國建立平等的國際關係
(D) 主權是達成政策目標不可缺少的組織

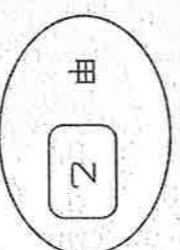
25. () 下列圖中所提到的內容符合民主政治的哪一項特色？

依據《國家賠償法》規定，公有公共設施因設置或管理有欠缺，致人民生命、身體或財產受損害者，國家應負損害賠償責任。



- (A) 民意政治、法治政治
(B) 民意政治、責任政治
(C) 法治政治、政黨政治
(D) 法治政治、責任政治

26. () 公民老師以下圖說明「國家」與「政府」的區別，請問下列關於兩者的關係何者敘述正確？



- (A) 甲只是乙的構成要素之一
(B) 乙具備公權力，可以發揮甲的功能
(C) 甲的更替會影響乙的國際地位
(D) 乙具有獨立性的主權，不受其他國家干涉

27. () 大仁借小傑的筆記來抄，但不小心沾到汗漬。請問：依照附圖的筆記內容推論，下列敘述何者正確？



- (A) 少年矯正學校設置及教育實施通則屬於乙位階
(B) 丙針對技術性或細節性的事項，補充甲的不足
(C) 乙的目的是具體實現憲法的内容
(D) 法律位階由低至高依序為：丙>乙>甲

<範圍：L1~L2 >

【劃卡代號：32】

班級：

座號：

姓名：

◎ 請閱讀下列選文，回答以下3問題

18 歲公民權三讀通過！ 2022/03/25

台灣立法院 3 月 25 日三讀通過 18 歲公民權修憲案，明定年滿 18 歲中華民國國民，依法有選舉、罷免、創制、複決、參加公投及被選舉權；除本憲法及法律別有規定者外，年滿 18 歲者，有依法被選舉權，憲法第 130 條規定 20 歲選舉權、23 歲被選舉權停止適用。

立法院臨時會 1 月 18 日召開修憲委員會，在國民黨立委集體缺席下，經點名表決通過由民進黨、台灣民眾黨及時代力量黨團所共提的 18 歲公民權修憲版本。

3 月 25 日立法院會全案三讀表決時，出席立委 109 人，贊成 109 人、反對 0 人、棄權 0 人，通過 18 歲公民權修憲案。這是台灣立法院 2004 年通過修憲案後，相隔 17 年，第一次有修憲案提出，台灣媒體形容是「憲法時刻來臨」。

28. () 請問：按照《憲法》規定，上文所提事項的正確修改程序為何？

- (A) 立法院提案→總統公布實施→選舉人投票複決
- (B) 立法院提案→立法院三讀通過→總統公布實施
- (C) 立法院提案→公告半年→選舉人投票複決
- (D) 立法院提案→公民投票複決→大法官解釋

29. () 請問：按照《憲法》規定，上文所提事項的修改程序顯示我國《憲法》的何項特性？

- (A) 固定性
- (B) 原則性
- (C) 變動性
- (D) 最高性

30. () 請問：按照《憲法》規定，上文所提事項的修改程序第二階段門檻為何？

- (A) 投票人數達有投票權人總數 1/2 以上，且有效投票數過 1/2 同意者
- (B) 同意票多於不同意票，且有效同意票達投票權人總數 1/4 以上
- (C) 有效同意票超過投票人數之半數
- (D) 有效同意票超過選舉人總額之半數

~ 考題結束 ~

